

На выполнение работы по математике даётся 90 минут. Работа содержит 19 заданий.

В заданиях, после которых есть поле со словом «Ответ», запишите ответ в указанном месте.

В заданиях, после которых есть поле со словами «Решение» и «Ответ», запишите решение и ответ в указанном месте.

В заданиях 4 и 8 нужно отметить точки на числовой прямой.

Если Вы хотите изменить ответ, зачеркните его и запишите рядом другой.

При выполнении работы можно пользоваться таблицей умножения и таблицей квадратов двузначных чисел. Запрещено пользоваться учебниками, рабочими тетрадями, справочниками, калькулятором.

При необходимости можно пользоваться черновиком. Записи в черновике проверяться и оцениваться не будут.

Советуем выполнять задания в том порядке, в котором они даны. Для экономии времени пропускайте задание, которое не удаётся выполнить сразу, и переходите к следующему. Постарайтесь выполнить как можно больше заданий.

Желаем успеха!

6

Месяц	Температура (градусы Цельсия)
янв	9.5
фев	9.5
мар	9.0
апр	8.0
май	7.5
июн	7.0
июл	7.5
авг	7.5
сен	7.5
окт	8.5
ноя	9.0
дек	10.0

На диаграмме видно, что потребление электроэнергии в середине года существенно ниже, чем в начале и конце года. Чем это можно объяснить? Можно ли предположить, в каком полушарии находится эта страна – в Южном или в Северном? Можно ли что-то сказать о том, суровые ли зимы в этой стране? Напишите два-три предложения, в которых кратко выскажите и обоснуйте своё мнение по этим вопросам.

Ответ:

7

На соревнованиях по фигурному катанию каждый элемент имеет базовую стоимость и судейскую оценку. Девять судей независимо друг от друга выставляют за каждый элемент свои оценки от -5 до $+5$ баллов. Затем самая высокая и самая низкая оценки отбрасываются. Среднее арифметическое оставшихся семи оценок, округлённое до сотых, прибавляется к базовой стоимости. Полученная сумма является итоговой оценкой за элемент.

Фигуристу Артёму Петрову судьи поставили оценки за три элемента. Эти оценки и базовая стоимость каждого элемента показаны в таблице. Определите, за какой элемент Артём Петров получил наиболее высокую оценку. В ответе запишите этот элемент и оценку за него.


Сальхов	4,3	0	1	2	1	1	1	0	1	1
Каскад	6,1	-2	-3	-2	-1	-2	-1	-2	-3	-1
Лутц	5,9	-1	-1	0	1	0	-1	0	0	0

Ответ:

8

Отметьте на координатной прямой числа $\sqrt{10}$ и $\sqrt{34}$.

Ответ:



9

Найдите значение выражения $\frac{xy+y^2}{8x} \cdot \frac{4x}{x+y}$ при $x=\sqrt{3}$, $y=-5,2$.

Ответ:

10 На фестивале выступают группы — по одной от каждой из заявленных стран, среди этих стран Румыния, Болгария и Греция. Порядок выступления определяется жребием. Какова вероятность того, что группа из Румынии будет выступать до группы из Болгарии, но после группы из Греции?



Ответ:	
--------	--

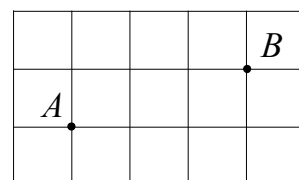
11 Свежие абрикосы содержат 88% воды, а сушеные абрикосы (курага) — 30%. Сколько требуется свежих абрикосов для приготовления 72 кг кураги?

Ответ:	
--------	--

12 На клетчатой бумаге с размером клетки 1×1 отмечены точки A и B . Найдите расстояние между этими точками.



ОТВЕТ:																																				



13) Дан треугольник ABC . Известно, что $AB = BC = 25$, $AC = 40$. Найдите синус угла A .

Ответ:	
--------	--

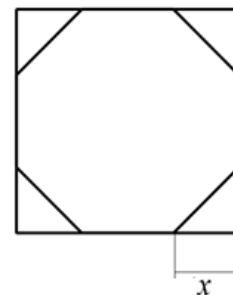
14) Укажите номер верного утверждения.

- 1) Если в параллелограмме две стороны равны, то такой параллелограмм является ромбом.
- 2) Если в четырёхугольнике две диагонали равны и перпендикулярны, то такой четырёхугольник — квадрат.
- 3) Если в ромбе диагонали равны, то такой ромб является квадратом.
- 4) Углы при меньшем основании трапеции тупые.

Ответ:	
--------	--

15

У стекольщика есть квадратное стекло. Сторона квадрата равна 40 см. Нужно вырезать из этого стекла восьмиугольник, у которого все стороны равны и все углы равны. Для этого нужно наметить линии и по этим линиям отрезать от квадрата четыре одинаковых прямоугольных треугольника по углам (см. рисунок). Найдите приблизительно длину катета одного такого треугольника в миллиметрах, считая, что $\sqrt{2}$ равен 1,41.



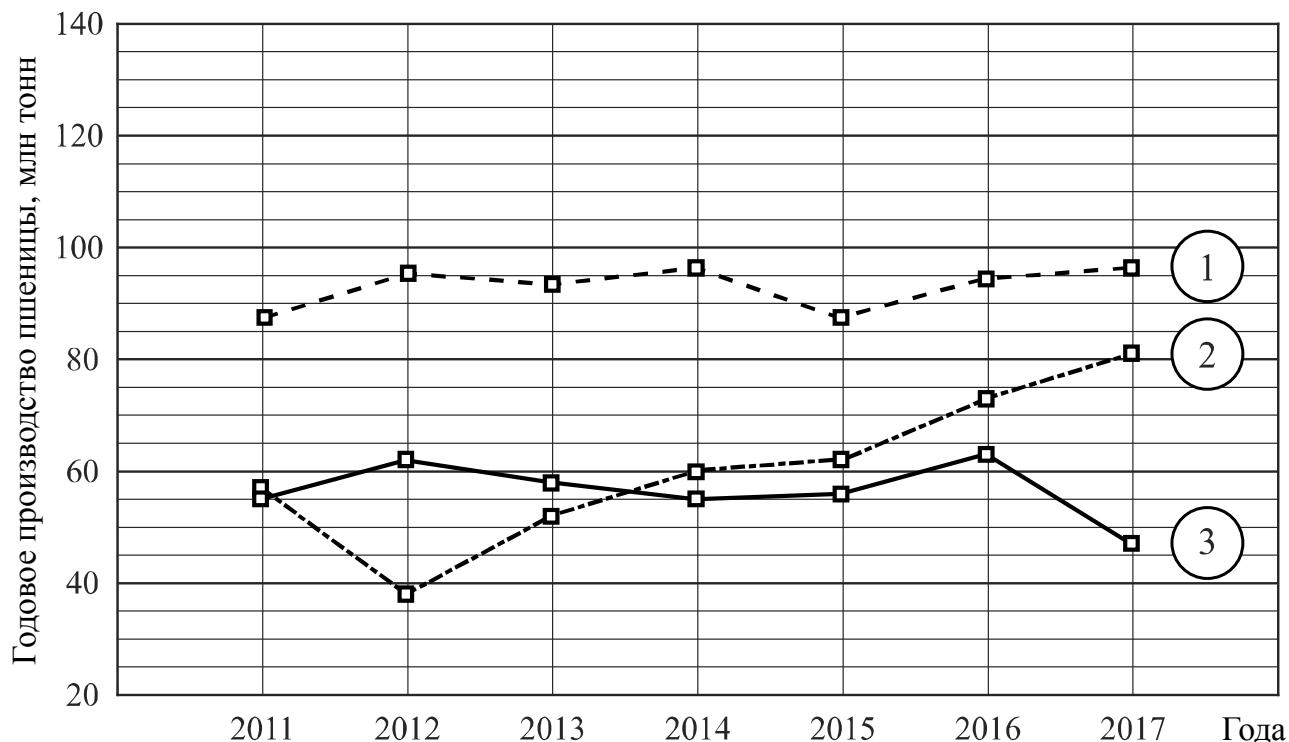
Запишите решение и ответ.

Решение:

 Ответ:

16

Годовое производство пшеницы — это суммарная масса всех сортов пшеницы, выращенной в стране в течение года. Обычно измеряется в млн тонн. На диаграмме показано производство пшеницы в млн тонн в России, США и Индии за семь лет начиная с 2011 года. Рассмотрите диаграмму и прочтите фрагмент сопровождающей статьи.



В 2012 году на основных хлеботорных территориях России случилась аномальная засуха. Она повсеместно нанесла значительный ущерб посевам пшеницы, а на 8% площадей полностью погубила урожай. Погодные условия мешали не только российским хлеборобам. В 2015 году в Индии длительная жара привела к выгоранию части площадей, занятых пшеницей. Кроме того, на урожайности пшеницы в Индии в том году негативно сказались чрезмерные осадки и град, последовавшие за засухой.

В США из-за падения закупочных цен на пшеницу в 2017 году фермеры сократили на 1,5 млн га посевные площади, отведённые под пшеницу. Засуха и поздние метели в США в том же году стали причиной рекордно низкой урожайности зерновых.

В Китайской Народной Республике в большинстве хлеботорных районов на протяжении последних десяти лет погода благоприятствовала сельскому хозяйству. Постепенно повышающаяся культура земледелия в КНР способствует небыстрому, но устойчивому росту производства пшеницы, составляющей наряду с рисом основу рациона населения. В 2015 году урожай составил 130 млн тонн — на 10 млн тонн больше, чем четырьмя годами раньше. Однако 2016 год оказался менее удачным и суммарный урожай снизился на 2 млн тонн по сравнению с 2015 годом. Но уже в 2017 году снова наблюдался резкий рост по сравнению с прошлым годом, а суммарный урожай пшеницы в 2017 году оказался на 10% выше, чем в 2011 году.

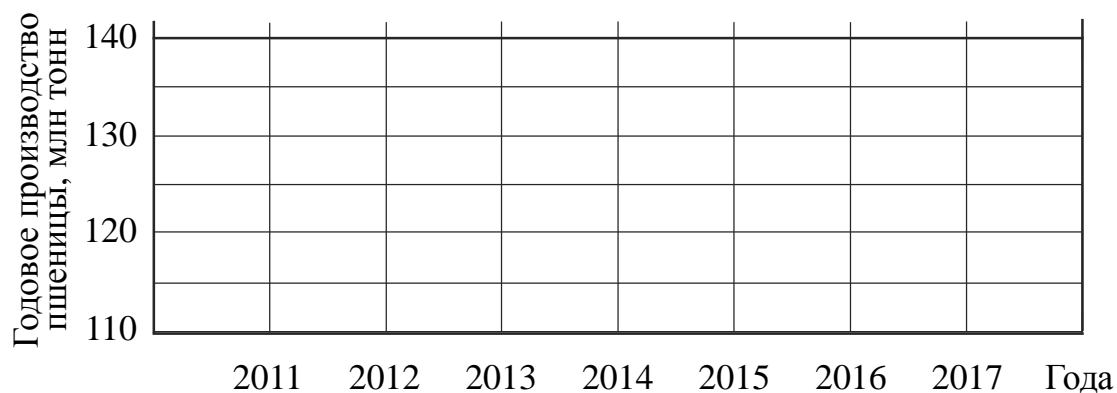
1) На основании прочитанного определите, какой стране соответствует каждый из трёх графиков.

Ответ:

1) — _____; 2) — _____; 3) — _____

2) По имеющемуся описанию постройте схематично график производства пшеницы в Китае в 2011–2017 гг.

Ответ:

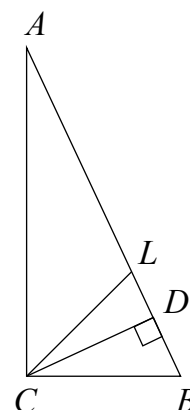


17

В прямоугольном треугольнике ABC с гипотенузой AB провели высоту CD и биссектрису CL . Найдите величину угла DCL , если $\angle CAB = 25^\circ$. Ответ дайте в градусах.

Запишите решение и ответ.

Решение



Ответ:

18

Расстояние между пунктами А и В по реке равно 45 км. Из А в В одновременно отправились плот и моторная лодка. Моторная лодка, прибыв в пункт В, тотчас повернула обратно и возвратилась в А. К этому времени плот проплыл 28 км. Найдите скорость лодки в неподвижной воде, если скорость течения реки равна 4 км/ч.

Запишите решение и ответ.

Решение.

Ответ:

19

Сумма ста натуральных чисел равна 5000. Все эти числа разбили на три группы, причём во всех группах разное количество чисел. Известно, что:

- в первой группе 29 чисел, их среднее арифметическое равно 21;
- среднее арифметическое чисел второй группы равно 50;
- среднее арифметическое чисел третьей группы – целое число.

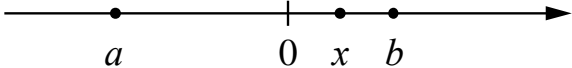
Найдите количество чисел в третьей группе.

Запишите решение и ответ.

Решение.

Ответ:

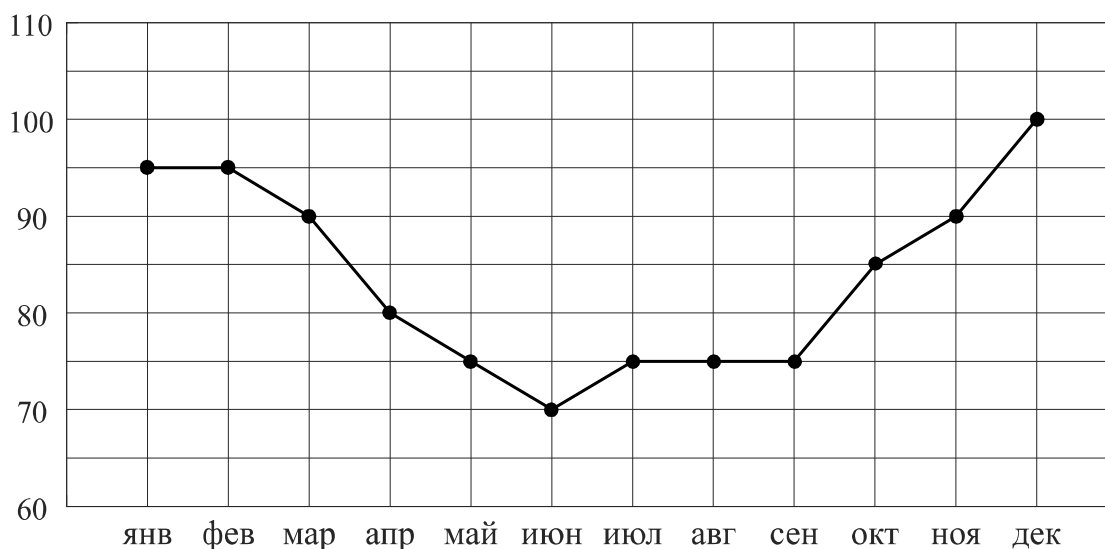
Номер задания	1	2	3	4	5	6	7	8	9	10	11	12	13	14	15	16	17	18	19	Итого
Баллы	1	1	1	1	1	2	1	2	1	1	1	1	1	1	2	2	1	2	2	25

1	28 ИЛИ 18,2
2	0,4; 3
3	16
4	 <p>В качестве верного следует засчитать любой ответ, где точка x лежит между точками 0 и b</p>
5	$y = 2x - 1$ или $f(x) = 2x - 1$
7	Лутц: 5,61
9	-2,6
10	$\frac{1}{6}$
11	420 кг
12	$\sqrt{10}$
13	0,6
14	3

6, 8, 15–19

6

Потребление электроэнергии измеряется в киловатт-часах (кВт·ч). Жирными точками показано потребление электроэнергии в некоторой стране в течение 2016 года в миллиардах кВт·ч. Для наглядности точки соединены линиями. Данные округлены до 5 млрд кВт·ч.



На диаграмме видно, что потребление электроэнергии в середине года существенно ниже, чем в начале и конце года. Чем это можно объяснить? Можно ли предположить, в каком полушарии находится эта страна – в Южном или в Северном? Можно ли что-то сказать о том, суровые ли зимы в этой стране? Напишите два-три предложения, в которых кратко выскажите и обоснуйте своё мнение по этим вопросам.

Решение. Середина года приходится на летние месяцы в Северном полушарии. Вероятно, снижение потребления электроэнергии связано с тем, что удлиняется световой день и на улице тепло, поэтому меньше электричества расходуется на освещение и отопление. В Южном полушарии это не так. Можно предположить, что эта страна находится в Северном полушарии, и зимы в ней довольно суровые.	
Имеется рассуждение, в котором делаются правдоподобные предположения о географическом положении страны, приведено объяснение разницы в потреблении электроэнергии в разные периоды	2
В решении присутствует утверждение о том, что летом теплее, чем зимой, но нет явных выводов и предположений о географическом положении страны	1
Решение не соответствует ни одному из критериев, перечисленных выше	0
Максимальный балл	2

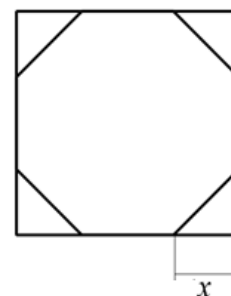
8

Отметьте на координатной прямой числа $\sqrt{10}$ и $\sqrt{34}$.

Ответ:	
	
Обе точки расположены в своих промежутках с целыми концами, учтено положение каждой точки относительно середины отрезка	2
Точки расположены в своих промежутках с целыми концами, но положение точки относительно середины отрезка неверное хотя бы у одной точки	1
Решение не соответствует ни одному из критериев, перечисленных выше	0
Максимальный балл	2

15

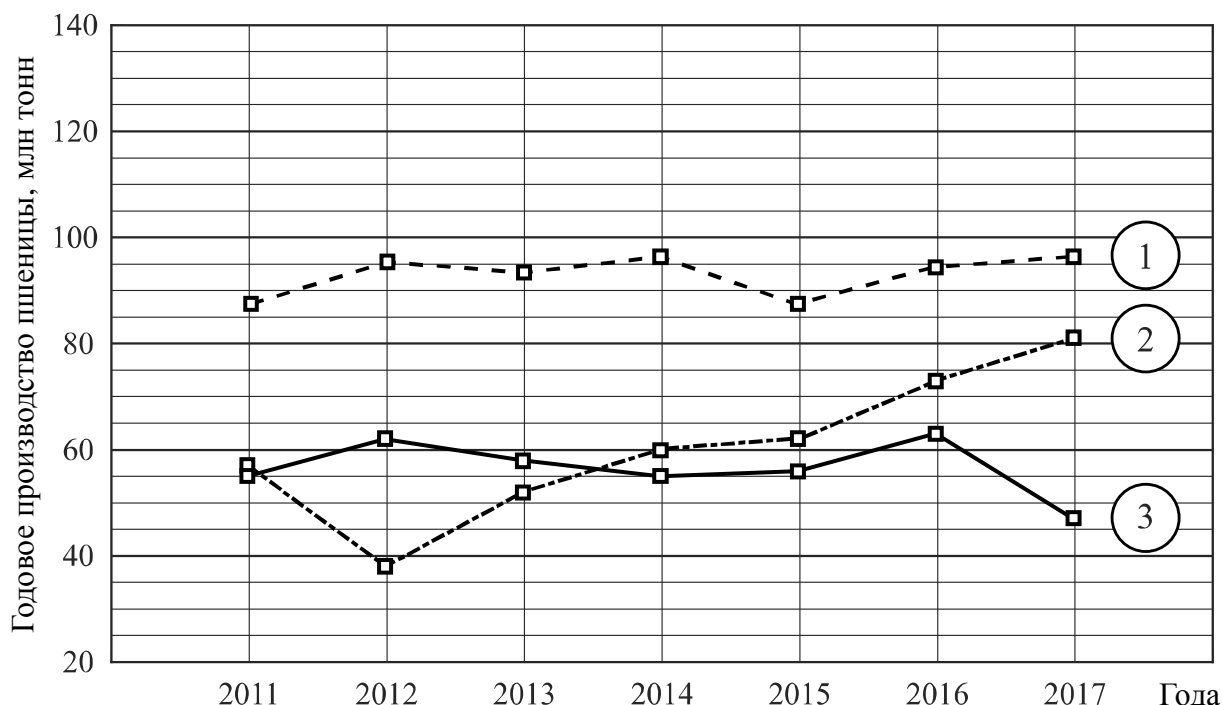
У стекольщика есть квадратное стекло. Сторона квадрата равна 40 см. Нужно вырезать из этого стекла восьмиугольник, у которого все стороны равны и все углы равны. Для этого нужно наметить линии и по этим линиям отрезать от квадрата четыре одинаковых прямоугольных треугольника по углам (см. рисунок). Найдите приблизительно длину катета одного такого треугольника в миллиметрах, считая, что $\sqrt{2}$ равен 1,41.



Решение. Пусть неизвестный катет равен x см. По теореме Пифагора или из соотношений сторон в прямоугольном треугольнике находим, что гипотенуза отрезанного треугольника равна $x\sqrt{2}$. Поскольку все стороны восьмиугольника должны быть равны, получаем уравнение $40 - 2x = x\sqrt{2}$, откуда $x \cdot (2 + \sqrt{2}) = 40; \quad x = \frac{40}{2 + \sqrt{2}} = 20(2 - \sqrt{2}).$ Подставляя значение 1,41 вместо $\sqrt{2}$, получаем: $x \approx 20 \cdot 0,59 = 11,8.$ Длина катета равна приблизительно 11,8 см, то есть 118 мм.	
Ответ: 118 мм.	
Проведены все необходимые рассуждения, получен верный ответ	2
Проведены необходимые рассуждения, но не найдено или найдено ошибочно значение в миллиметрах	1
Решение не отвечает ни одному из критериев, перечисленных выше	0
Максимальный балл	2

16

Годовое производство пшеницы — это суммарная масса всех сортов пшеницы, выращенной в стране в течение года. Обычно измеряется в млн тонн. На диаграмме показано производство пшеницы в млн тонн в России, США и Индии за семь лет начиная с 2011 года. Рассмотрите диаграмму и прочтите фрагмент сопровождающей статьи.



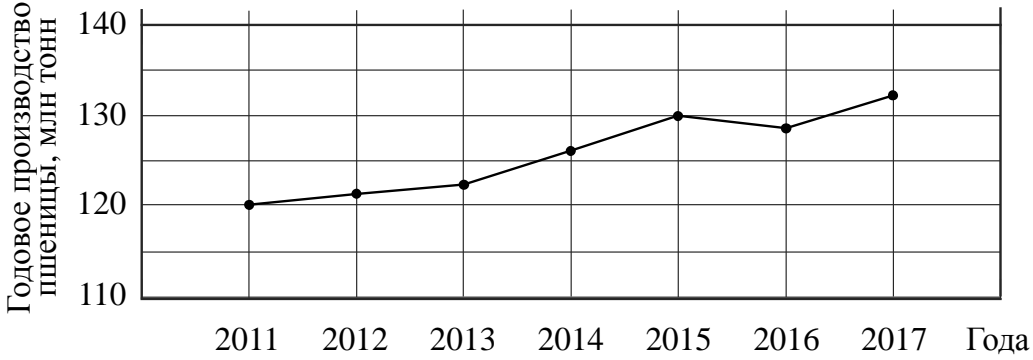
В 2012 году на основных хлеботородных территориях России случилась аномальная засуха. Она повсеместно нанесла значительный ущерб посевам пшеницы, а на 8% площадей полностью погубила урожай. Погодные условия мешали не только российским хлеборобам. В 2015 году в Индии длительная жара привела к выгоранию части площадей, занятых пшеницей. Кроме того, на урожайности пшеницы в Индии в том году негативно сказались чрезмерные осадки и град, последовавшие за засухой.

В США из-за падения закупочных цен на пшеницу в 2017 году фермеры сократили на 1,5 млн га посевные площади, отведённые под пшеницу. Засуха и поздние метели в США в том же году стали причиной рекордно низкой урожайности зерновых.

В Китайской Народной Республике в большинстве хлеботородных районов на протяжении последних десяти лет погода благоприятствовала сельскому хозяйству. Постепенно повышающаяся культура земледелия в КНР способствует небыстрому, но устойчивому росту производства пшеницы, составляющей наряду с рисом основу рациона населения. В 2015 году урожай составил 130 млн тонн — на 10 млн тонн больше, чем четырьмя годами раньше. Однако 2016 год оказался менее удачным и суммарный урожай снизился на 2 млн тонн по сравнению с 2015 годом. Но уже в 2017 году снова наблюдался резкий рост по сравнению с прошлым годом, а суммарный урожай пшеницы в 2017 году оказался на 10% выше, чем в 2011 году.

1) На основании прочитанного определите, какой стране соответствует каждый из трёх графиков.

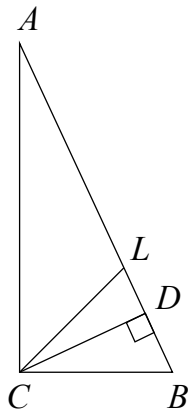
2) По имеющемуся описанию постройте схематично график производства пшеницы в Китае в 2011–2017 гг.

<p>Ответ:</p> <p>1) 1 — Индия; 2 — Россия; 3 — США;</p> <p>2) Например,</p>	
	
Верно найдено соответствие, график построен с учётом всех сведений, почерпнутых из текста	2
Имеется ошибка в соответствии, но график построен правильно, ИЛИ соответствие найдено верно, но при построении графика допущены ошибки	1
Решение не соответствует ни одному из критериев, перечисленных выше	0
Максимальный балл	2

17

В прямоугольном треугольнике ABC с гипотенузой AB провели высоту CD и биссектрису CL . Найдите угол DCL , если угол CAB равен 25° .

Запишите решение и ответ.

<p>Решение.</p> <p>В прямоугольных треугольниках ACB и CDB угол B общий. Следовательно, $\angle DCB = \angle CAB = 25^\circ$. Биссектриса CD делит прямой угол на два угла по 45°. Поэтому $\angle LCB = 45^\circ$, и $\angle DCL = \angle LCB - \angle DCB = 45^\circ - 25^\circ = 20^\circ$.</p> <p>Ответ: 20°.</p>	
	
Проведены необходимые рассуждения, получен верный ответ	1
Решение неверно или отсутствует	0
Максимальный балл	1

18

Расстояние между пунктами А и В по реке равно 45 км. Из А в В одновременно отправились плот и моторная лодка. Моторная лодка, прибыв в пункт В, тотчас повернула обратно и возвратилась в А. К этому времени плот проплыл 28 км. Найдите скорость лодки в неподвижной воде, если скорость течения реки равна 4 км/ч.

Запишите решение и ответ.

Решение. Лодка ходила в оба конца в течение 7 часов, поскольку плот проплыл по течению 28 км. Обозначив скорость лодки x км/ч, получаем уравнение	
$\frac{45}{x+4} + \frac{45}{x-4} = 7,$	
откуда	
$90x = 7(x^2 - 16); \quad 7x^2 - 90x - 112 = 0.$	
Полученное уравнение имеет единственный положительный корень 14.	
Ответ: 14 км/ч.	
Обоснованно получен верный ответ	2
Составлено верное уравнение или арифметическая модель, но допущена ошибка при решении уравнения или при вычислениях, возможно, приведшая к неверному ответу	1
Решение не отвечает ни одному из критериев, перечисленных выше	0
Максимальный балл	2

19

Сумма ста натуральных чисел равна 5000. Все эти числа разбили на три группы, причём во всех группах разное количество чисел. Известно, что:

- в первой группе 29 чисел, их среднее арифметическое равно 21;
- среднее арифметическое чисел второй группы равно 50;
- среднее арифметическое чисел третьей группы – целое число.

Найдите количество чисел в третьей группе.

Запишите решение и ответ.

Решение. Среднее арифметическое всех чисел равно 50. Во второй группе среднее тоже 50. Это значит, что среднее арифметическое совокупности чисел первой и третьей групп также 50. Пусть в третьей группе n чисел, а их среднее арифметическое равно целому числу m . Получаем равенство	
$\frac{21 \cdot 29 + mn}{n + 29} = 50, \text{ откуда } n(m - 50) = 29^2.$	
Число n является натуральным делителем числа 29^2 . Возможно три варианта: $n = 1$, $n = 29$ и $n = 29^2$.	
Случай $n = 29$ невозможен, так как по условию в первой и третьей группах чисел не поровну. Случай $n = 29^2$ невозможен, так как $n < 100$. Следовательно, $n = 1$	
Обоснованно получен верный ответ	2
Составлено равенство, связывающее количество чисел в третьей группе и их среднее арифметическое; дальнейшие шаги отсутствуют либо неверны	1
Решение не отвечает ни одному из критериев, перечисленных выше	0
Максимальный балл	2

Максимальный балл за выполнение работы — 25.

Рекомендуемая таблица перевода баллов в отметки по пятибалльной шкале

	«2»	«3»	«4»	«5»
Первичные баллы	0–7	8–14	15–20	21–25